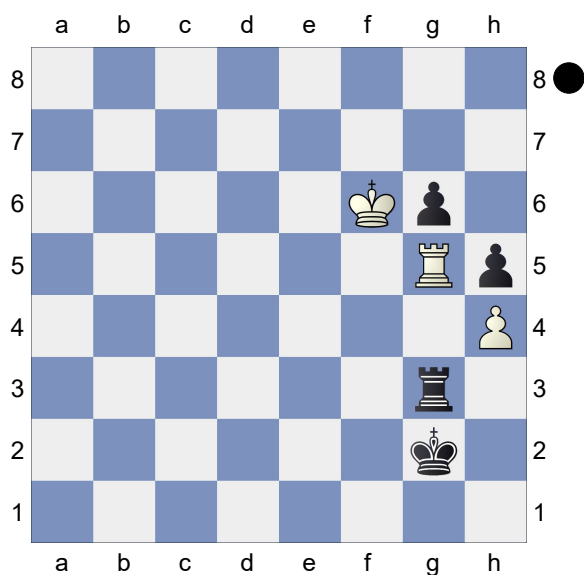
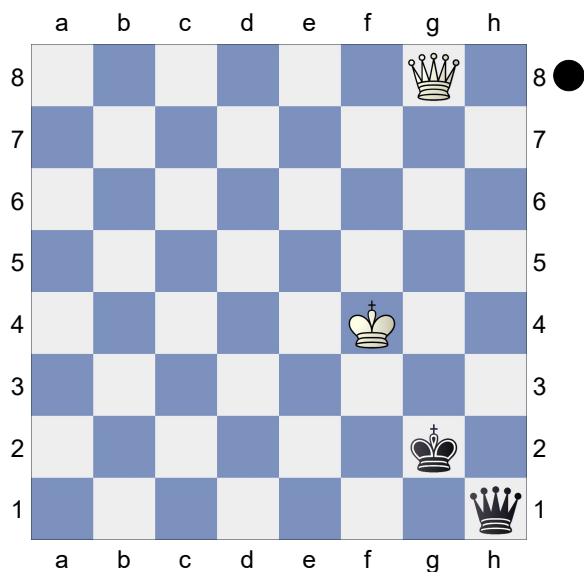


Exercício 1  
 Pretas Jogam  
*[albor]*




Jogam as Pretas: Elas conseguem vencer a partida trocando as Torres?

Exercício 2  
 Pretas Jogam  
*[albor]*




Jogam as Pretas: Como você avaliaria essa posição?

Exercício 3  
 Brancas Jogam  
*[albor]*



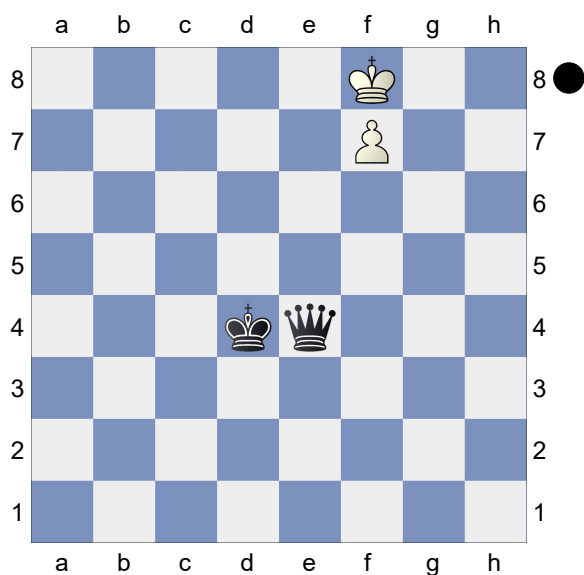
Jogam as Brancas: Jogar 56.Rd5 seria uma boa ideia?

Exercício 4  
 Brancas Jogam  
*[albor]*




Brancas Jogam: apenas um lance é suficiente para ganhar esta posição. Qual seria? Obs: Tente visualizar a sequência completa.

Exercício 5  
 Pretas Jogam  
 [albor]



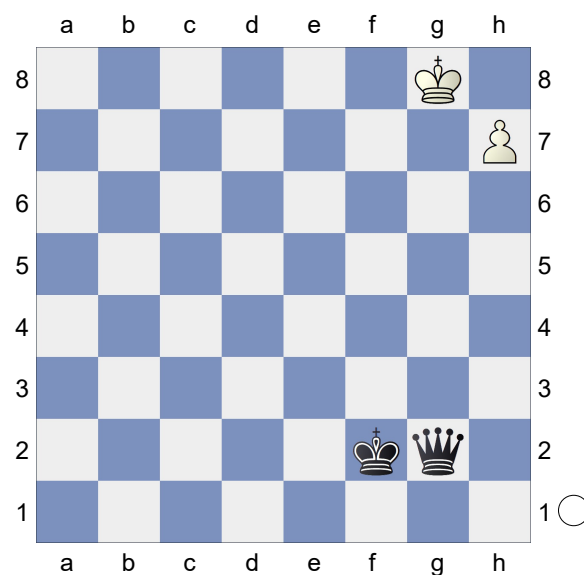
Jogam as Pretas: É possível vencer a partida?

Exercício 6  
 Pretas Jogam  
 [albor]




Jogam as Pretas: É possível empatar esta posição? Obs: Tente visualizar a sequência completa.

Exercício 7  
 Brancas Jogam  
 [albor]



Jogam as Brancas: Faz alguma diferença jogar 51.Rf8 ou 51.Rh8?

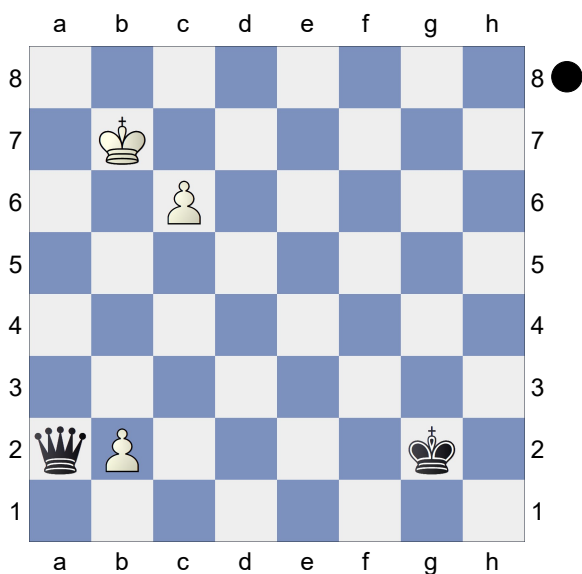
Exercício 8  
 Brancas Jogam  
 [albor]



Brancas Jogam: Elas podem escolher entre 58.Td7; 58.e8=D ou 58.Tc8. Qual destas opções são suficientes para vencer a partida? Obs: Tente visualizar


a sequência completa em cada uma das variantes.

□ Exercício 9  
■ Pretas Jogam  
[albor]



Jogam as Pretas: É possível vencer a partida?

□ Exercício 10  
■ Brancas Jogam  
[albor]



Jogam as Brancas: É possível vencer a partida?