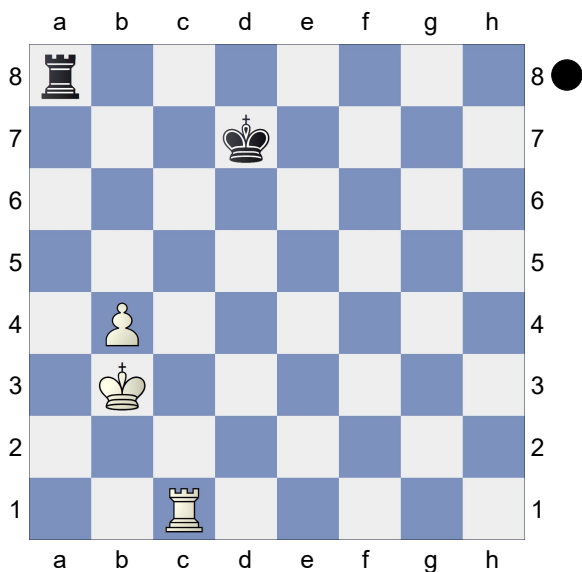
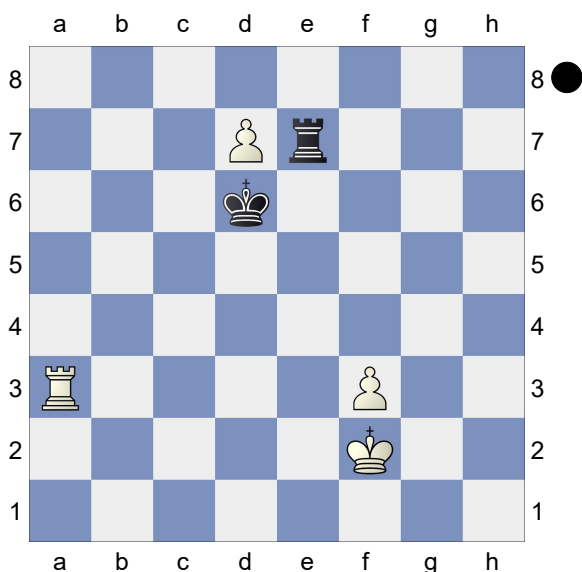


□ Exercício 1  
 ■ Pretas Jogam  
 [albor]



O lance 55...Tc8 é correto nesta posição? Para encontrar a melhor resposta, identifique as casas críticas do peão de b4 e avalie esta posição.

□ Exercício 2  
 ■ Pretas Jogam  
 [albor]

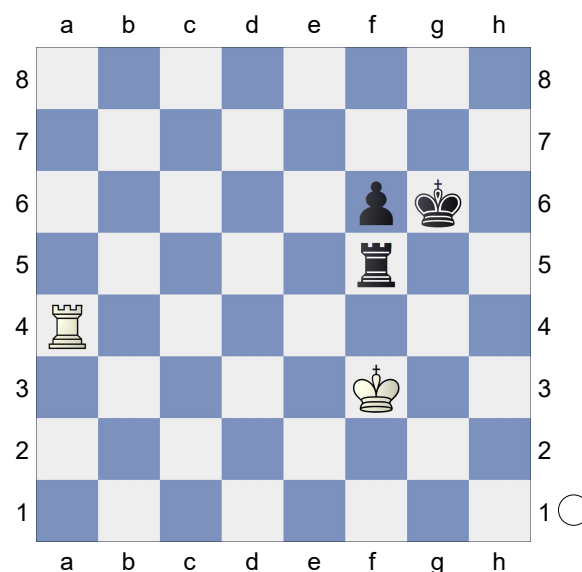


Jogam as Pretas: É possível capturar o peão de d7? Utilize os conceitos de

casas críticas para tomar a melhor decisão, mas primeiro, identifique as casas críticas do peão de f3.

□ Exercício 3  
 ■ Brancas Jogam  
 Casas críticas  
 [albor]

26.02.2023



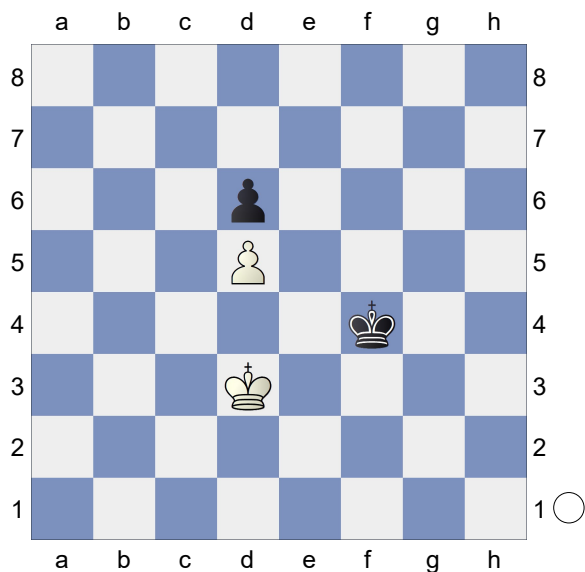
Jogam as Brancas: Utilizando os conceitos de casas críticas, seria 1.Tf4 um bom lance nesta posição? Observe as casas críticas do peão de f6 para tomar esta decisão.

□ Exercício 4  
 ■ Brancas Jogam  
 Casas críticas  
 [albor]

26.02.2023

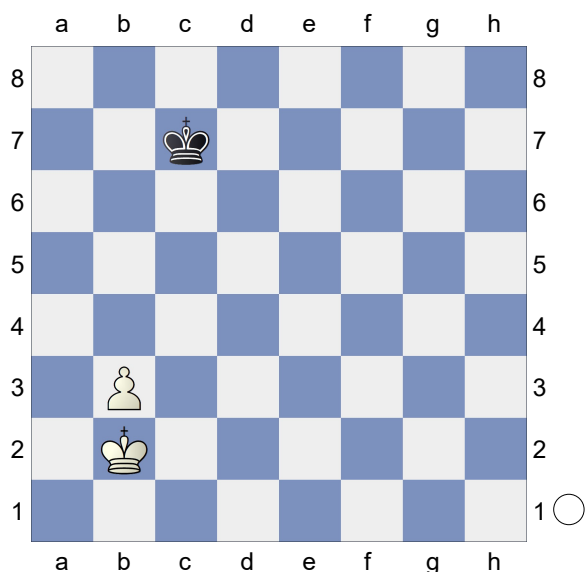
(Diagram)

Jogam as Brancas: Como você avaliaria essa posição? Utilize os conceitos da aula 2 e encontre quais seriam as casas críticas do peão de d6 para encontrar a melhor sequência para as Brancas.



□ Exercício 5  
 ■ Brancas Jogam  
 Casas críticas

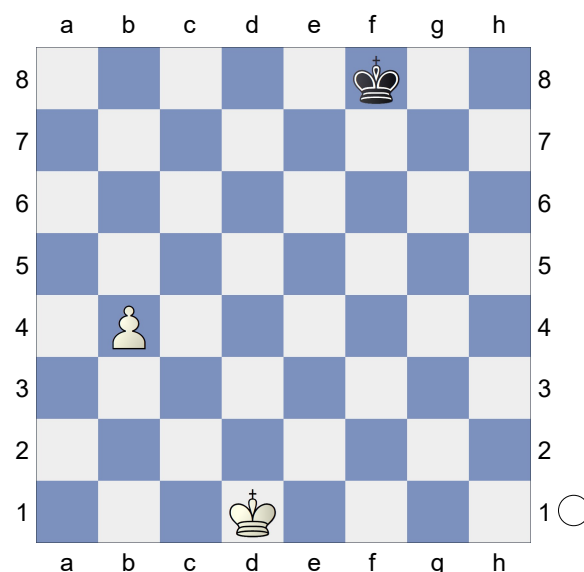
12.04.2020



As Brancas podem vencer esta posição? Caso contrário, explique o porque. Identifique as casas críticas do peão de b3 para tomar a melhor decisão.

□ Exercício 6  
 ■ Brancas Jogam  
 Casas críticas

12.04.2020



As Brancas podem vencer esta posição? Caso contrário, explique o porque. Identifique as casas críticas do peão de b4 para tomar a melhor decisão.