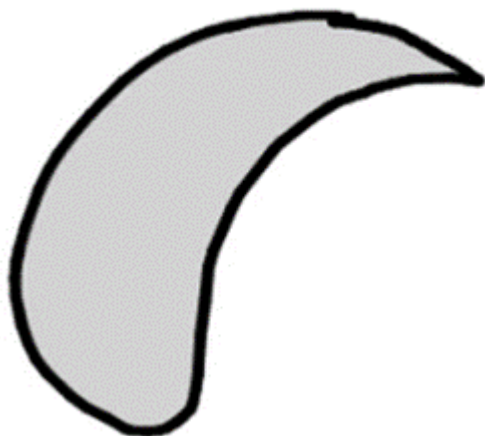
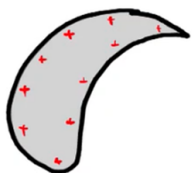


Um condutor representado pelo desenho abaixo é carregado positivamente.

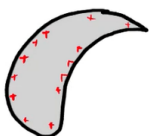


É correto afirmar que a imagem que mais se assemelha à distribuição das cargas positivas ao longo do condutor é:

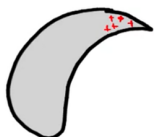
a



b



c



d

e

