
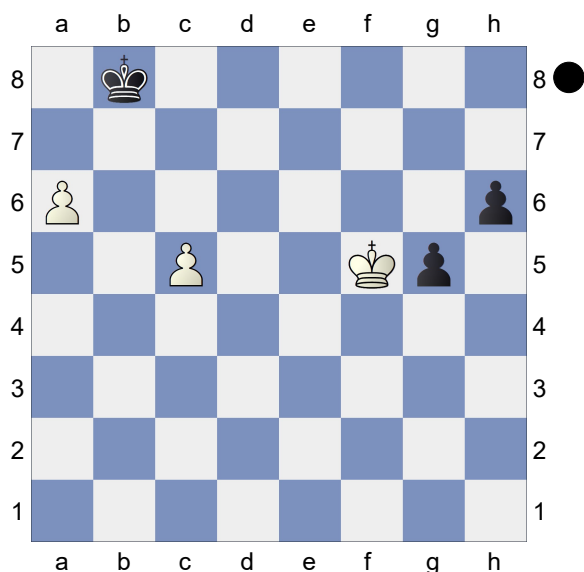


□ Exercício 1
 ■ Brancas Jogam
 [albor]



Jogam as Brancas: As Brancas têm alguma esperança nesta posição? Utilize o conceito de regra do quadrado para escolher a melhor sequência.


□ Exercício 2
 ■ Brancas Jogam
 [albor]



Jogam as Pretas: Elas conseguem salvar a partida? Utilize o conceito de

quadrado flutuante para tomar a melhor decisão.

□ Exercício 3
 ■ Brancas Jogam
 [albor]




As brancas jogaram 50.g4. Foi uma boa decisão? Calcule as variantes e lembre-se do conceito de regra do quadrado.

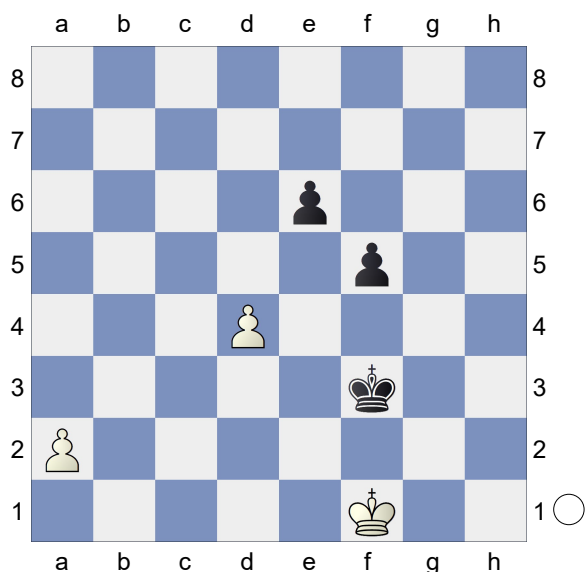
□ Exercício 4
 ■ Brancas Jogam
 Regra do Quadrado
 [albor]

(Diagram)

Desafio! Jogam Brancas e ganham: Utilize os conceitos de regra do quadrado para encontrar a melhor sequência para as Brancas. Lembrete: Cuidado com os recursos do seu adversário.



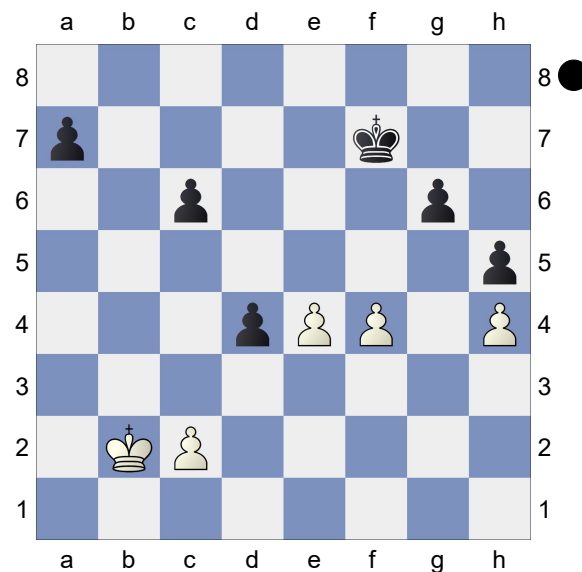
□ Exercício 5
 ■ Brancas Jogam
 Regra do Quadrado



Jogam Brancas e ganham: Utilizando o conceito de regra do quadrado, encontre a melhor sequência para as Brancas.

□ Exercício 6
 ■ Pretas Jogam
 [albor]

(Diagram)



Jogam as Pretas e ganham: Utilize o conceito de quadrado flutuante e encontre a única sequência vencedora para as Pretas.